

**BREVET D'ÉTUDES PROFESSIONNELLES**

**SECTEUR A :**

secteur secondaire, soins personnels, sanitaire et social, arts graphiques

**ÉPREUVE : GÉOGRAPHIE**

**durée : 1 heure**

**AVERTISSEMENT AUX CANDIDATS**

Ce sujet est composé de :

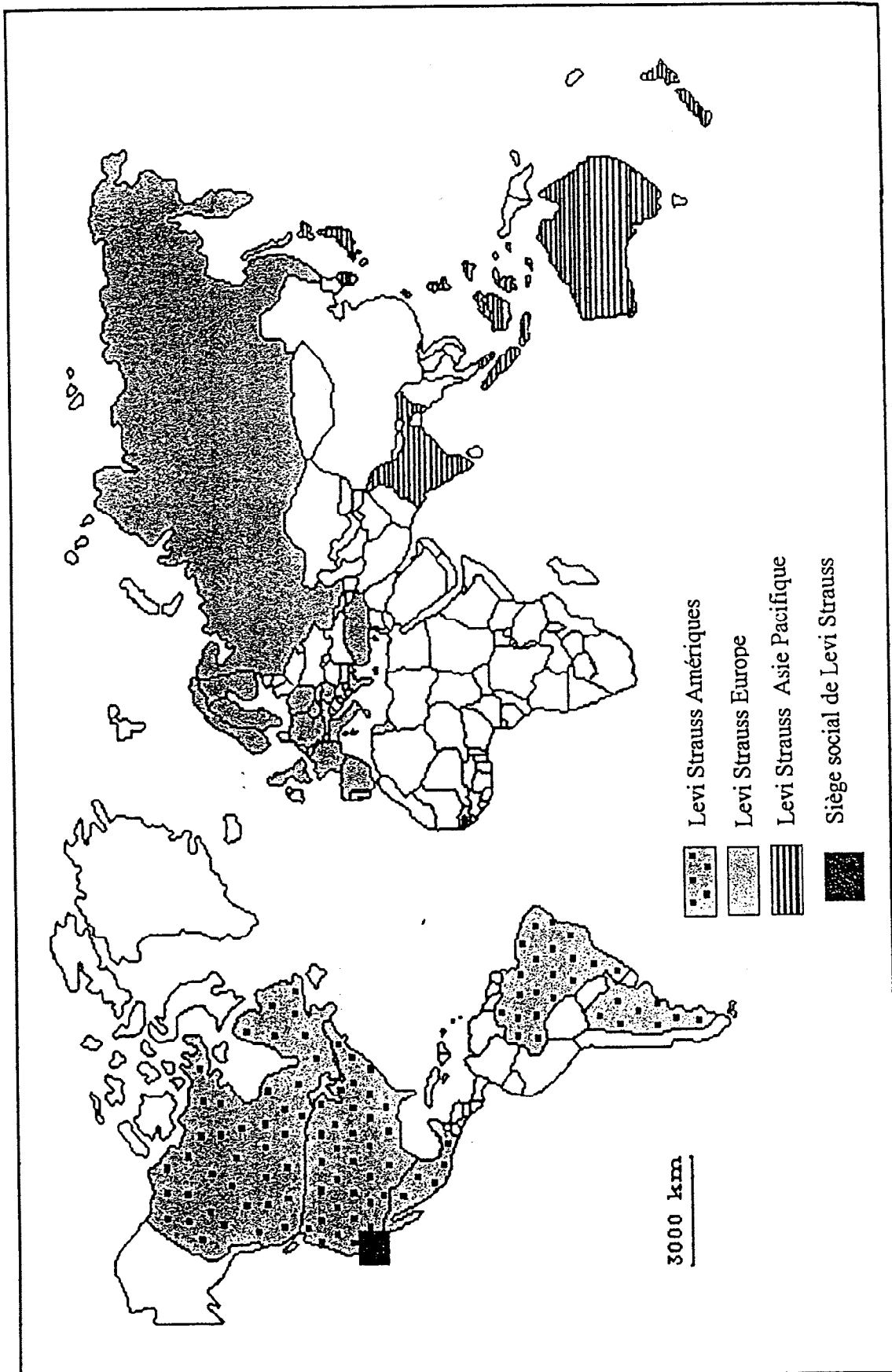
- 3 feuilles format A4 de 1/3 à 3/3.

**VOUS VOUS ASSUREREZ QUE VOUS ÊTES EN POSSESSION DES DEUX DOCUMENTS  
AVANT DE COMMENCER A COMPOSER.**

**L'USAGE DE LA CALCULATRICE EST INTERDIT**

La mondialisation : aspects, atouts et limites

Document 1



"Levi Strauss et Compagnie fabrique et commercialise des vêtements dans plus de 60 pays sous les marques Levi's, Dockers et Slates."

Carte et texte réalisés à partir d'INTERNET : Site de la marque Levi's - octobre 1998

**Levi Strauss envisage la fermeture de quatre usines, dont une en France**

LILLE/BRUXELLES (AP)

Le groupe Levi Strauss Europe envisage la fermeture de son usine près de Lille dans le Nord et de trois autres sites en Belgique, a annoncé mardi un porte-parole du groupe à Bruxelles.

Alors que la direction évoque un stock trop important et une baisse des ventes de jeans, les syndicats montrent du doigt l'ouverture il y a deux ans d'une unité de production en Turquie qui selon eux voit « ses capacités augmenter au fil des ans ».

En Belgique, trois sites sont concernés à Gits, Deurne et Wervik, soit 931 employés. En France, c'est le site de La Bassée, près de Lille, qui compte 530 employés et devrait fermer ses portes en 1999, selon les syndicats.


Selon le responsable de la communication, Mark Elliot, il est encore trop tôt pour dire quand exactement les usines seraient fermées.

Dans un communiqué, le groupe explique que cette restructuration est due à une baisse de la demande, notamment en raison des évolutions démographiques en Europe, les jeunes étant de moins en moins nombreux. Cette population représente le « coeur de cible » des jeans Levi's. Paul Scheltens, porte-parole de Levi Strauss à Bruxelles, a expliqué que le groupe produisait trop et qu'il réduisait ses capacités de production « en fermant des usines dont le coût de la main-d'oeuvre est élevé ». Par ailleurs, une centaine d'employés dans les filiales européennes du groupe pourraient être licenciés l'année prochaine.

En tout, le projet de restructuration pourrait aboutir au licenciement de 20 % des 7 500 employés du groupe en Europe. Levi Strauss détient et exploite 12 sites de fabrication et de finition en Écosse, Belgique, France, Espagne, Pologne, Hongrie et Turquie. Les ventes mondiales se sont élevées à 6,9 milliards de dollars (environ 40 milliards de FF) en 1997. AP

Source INTERNET : Site Agence Associated Press - 29 septembre 1998

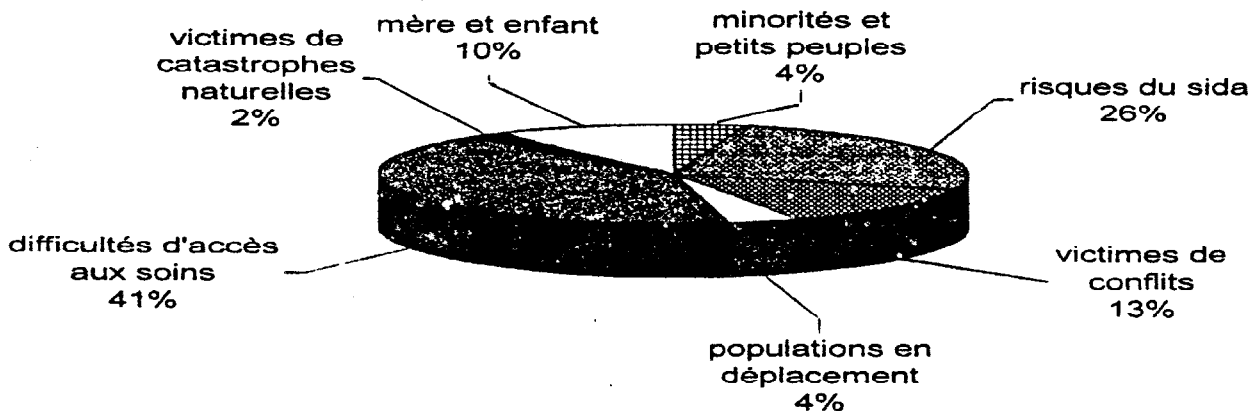
Document 3



**Médecins du Monde auprès des populations vulnérables.**

Médecins du Monde exprime, par ses missions et sa proximité, sa solidarité aux populations les plus vulnérables. En sept grandes causes, le bilan d'une année de présence dans le monde.

**REPARTITION DES PROGRAMMES PAR GRANDES CAUSES EN 1996 (EN NOMBRE DE PROJETS)**



Source INTERNET : Site «Médecins du Monde»-octobre 1998

## QUESTIONS

**Toutes les réponses doivent être rédigées.**

### **I. - ÉTUDE DE DOCUMENTS (13 points)**

#### **Document 1** (3 points)

1.1 Dans quel pays se trouve le siège social de Levi Strauss ? (1 point)

1.2 Comment appelle-t-on ce type d'entreprise ? (2 points)

#### **Document 2** (5 points)

2.1 Dans quels pays Levi Strauss va-t-il fermer des entreprises ? (1 point)  
Dans quel autre développe-t-il ses capacités de production ? (1 point)

2.2 Indiquez deux des raisons qui expliquent pourquoi une même entreprise peut fermer des usines pour en ouvrir d'autres. (2 points)

2.3 A partir de cet exemple, définissez le terme de délocalisation. (1 point)

#### **Document 3** (3 points)

3.1 Relevez les trois principales actions de *Médecins du Monde*. (1,5 point)

3.2 Le document illustre un aspect positif de la mondialisation : lequel ? (1,5 point)

#### **Documents 1-2-3** (2 points)

4.1 D'où sont extraits ces trois documents ? (1 point)

4.2 En quoi sont-ils des exemples de mondialisation ? (1 point)

### **II - DÉVELOPPEMENT STRUCTURÉ (7 points)**

En exploitant ces documents et vos connaissances, indiquez les caractères positifs et négatifs de la mondialisation. Vous les illustrerez par des exemples précis.

***[Votre texte sera organisé en deux paragraphes et comportera au moins une quinzaine de lignes.]***